



Lámina 1. Hallar el perfil izquierdo de las piezas de abajo y la verdadera magnitud de la cara superior. Las piezas están representadas mediante su alzado y planta.

Nº. Nombre y Apellidos

Grupo y Fecha

Maki Biguri Zamorandiá

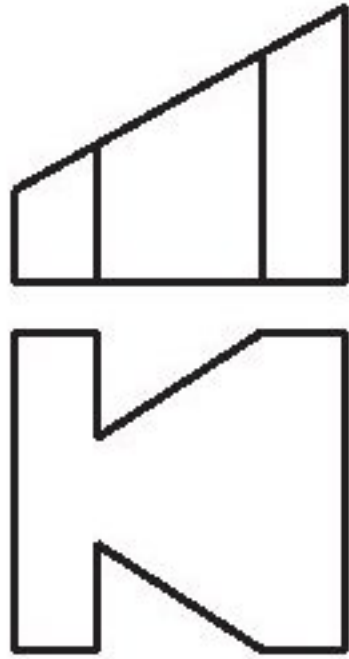
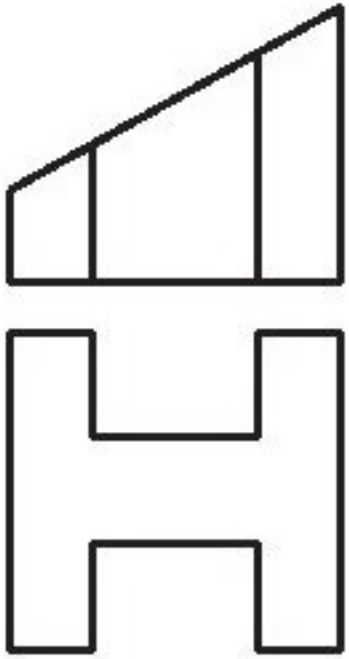


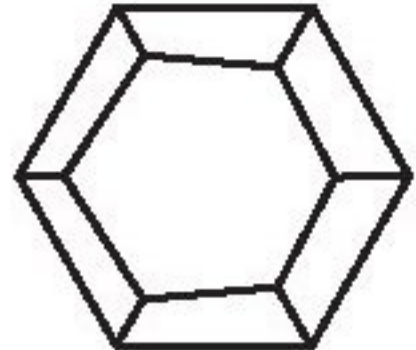
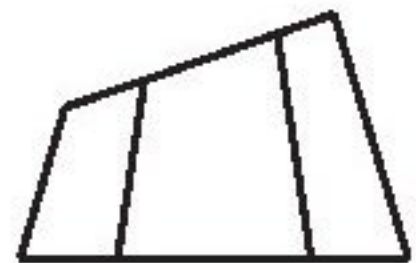
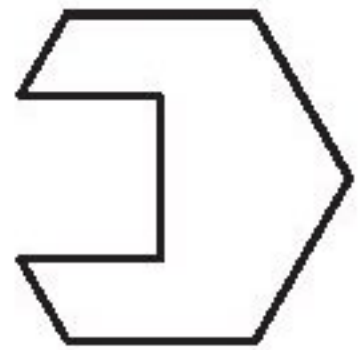
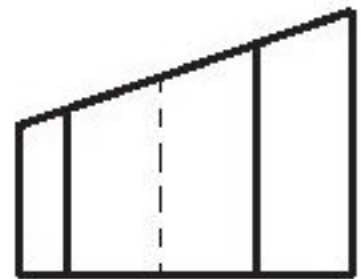


Lámina 1. Hallar el perfil izquierdo de las piezas de abajo y la verdadera magnitud de la cara superior. Las piezas están representadas mediante su alzado y planta.

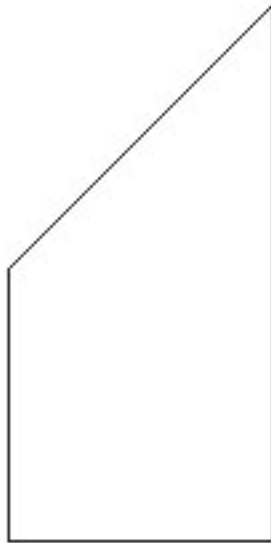
Nº. Nombre y Apellidos

Grupo y Fecha

Maki Biguri Zamorandi



EJERCICIO 2. Sobre la recta r , y a partir del punto O_0 , trazar el desarrollo lateral (sin las bases superior ni inferior) del siguiente prisma recto truncado.



Nº, Nombre y Apellidos

Curso, Grupo y Fecha