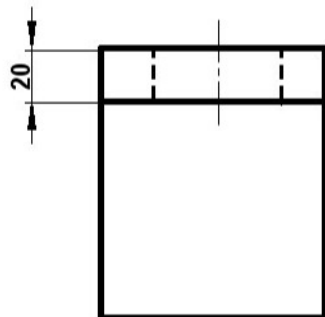
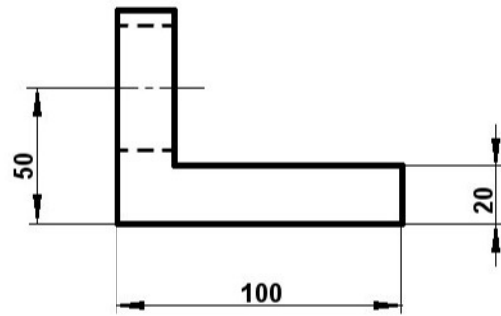
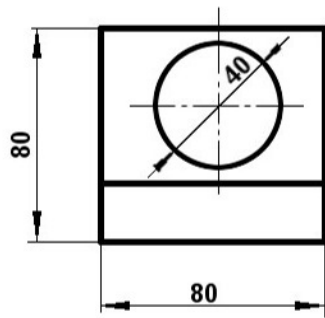


EJERCICIO 1

Hallar la perspectiva caballera. Escala 1:1



Y

X

Z



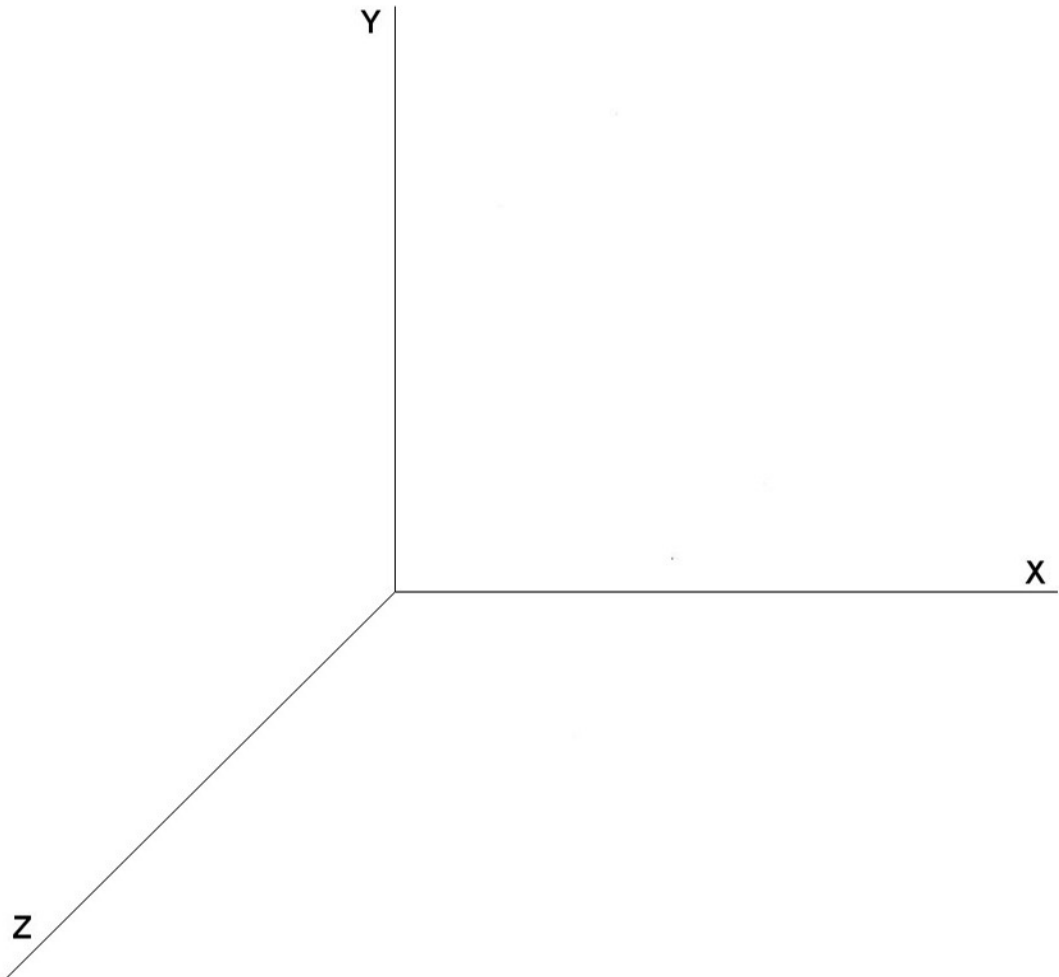
Iñaki Biguri Zarraonandia

Nº, Nombre y Apellidos

Grupo y Fecha

## EJERCICIO 2

Hallar la perspectiva caballera. Escala 1:1 de una circunferencia de 80 mm de diámetro situada sobre las tres caras del triedro. Su posición la dan las coordenadas (50, 50) del centro O de la circunferencia en cada una de las caras del triedro.



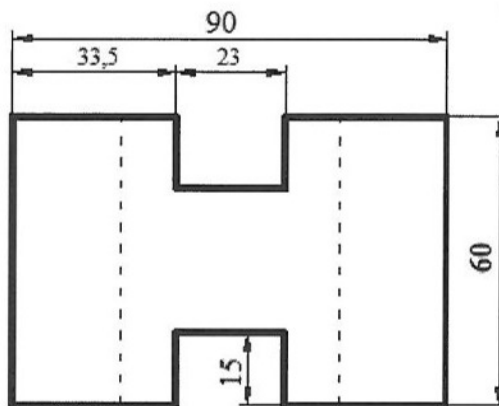
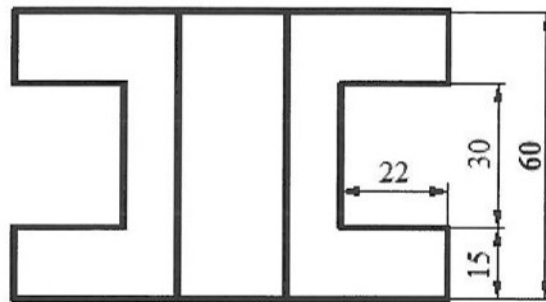
Iñaki Biguri Zarraonandia

Nº, Nombre y Apellidos

Grupo y Fecha

### EJERCICIO 3

Hallar la perspectiva caballera. Escala 1:1



Y

X

Z



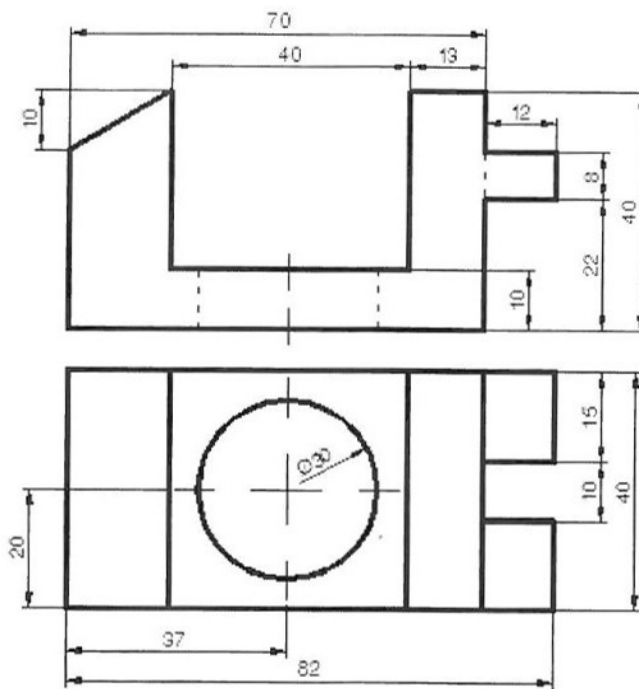
Iñaki Biguri Zarraonandia

Nº, Nombre y Apellidos

Grupo y Fecha

### EJERCICIO 4

Hallar la perspectiva caballera. Escala 1:1



Y

X

Z



Iñaki Biguri Zarraonandia

Nº, Nombre y Apellidos

Grupo y Fecha